

請考生依指示
填寫准考證末兩碼

109年國中教育會考

社會科試題本

請不要翻到次頁！

讀完本頁的說明，聽從監試委員的指示才開始作答！

※請先確認你的答案卡、准考證與座位號碼是否一致無誤。

請閱讀以下測驗作答說明：

測驗說明：

這是國中教育會考社會科試題本，試題本採雙面印刷，共 **14** 頁，有 **63** 題選擇題，每題都只有一個正確或最佳的答案。測驗時間從 **08:30** 到 **09:40**，共 **70** 分鐘。作答開始與結束請聽從監試委員的指示。

注意事項：

1. 所有試題均為四選一的選擇題，答錯不倒扣。
2. 試題中所附圖形，如有附上比例尺，以比例尺為依據作答；若無比例尺，則該圖僅作為參考，不代表實際大小。
3. 可利用試題本中空白部分計算，切勿在答案卡上計算。
4. 依試場規則規定，答案卡上不得書寫姓名座號，也不得作任何標記。故意汙損答案卡、損壞試題本，或在答案卡上顯示自己身分者，該科考試不予計列等級。

作答方式：

請依照題意從四個選項中選出一個正確或最佳的答案，並用 **2B** 鉛筆在答案卡上相應的位置畫記，請務必將選項塗黑、塗滿。如果需要修改答案，請使用橡皮擦擦拭乾淨，重新塗黑答案。例如答案為 **B**，則將 **Ⓐ** 選項塗黑、塗滿，即：**Ⓐ ● Ⓒ Ⓓ**

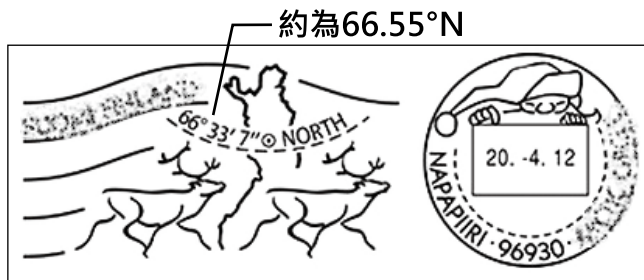
以下為錯誤的畫記方式，可能導致電腦無法正確判讀。如：

- Ⓐ ● Ⓒ Ⓓ — 未將選項塗滿
- Ⓐ Ⓑ Ⓒ Ⓓ — 未將選項塗黑
- Ⓐ ● Ⓒ Ⓓ — 未擦拭乾淨
- Ⓐ ● Ⓑ Ⓒ Ⓓ — 塗出選項外
- Ⓐ ● ● Ⓓ — 同時塗兩個選項

請聽到鐘聲響起，於試題本右上角方格內填寫准考證末兩碼，再翻頁作答

一、單題：(1~54題)

1. 小嵐到某國旅遊時，寄明信片回臺灣，圖(一)是明信片上具有該國特色的郵戳。根據郵戳上的資訊判斷，小嵐最可能到下列何國旅遊？



圖(一)

- (A)日本 (B)芬蘭
(C)英國 (D)紐西蘭

2. 根據中國氣象部門的統計，西北和華北地區沙塵暴發生年均次數，1987至1999年期間為5.85次，2011至2015年期間則減少為3.5次。下列何者與上述環境問題的改善有密切關連？

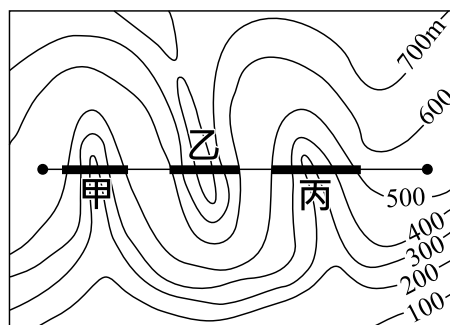
- (A)河西走廊的防護林工程
(B)洞庭湖的退田還湖政策
(C)三江平原的排水改善計畫
(D)藏南縱谷的退牧還林政策

藏南縱谷 = 藏南谷地

3. 每年10月起至翌年4月底，捕撈鰻魚魚苗是臺灣沿海漁民傳統產業活動之一，更是許多漁民維持生計的重要經濟來源。農委會於2013年訂定相關捕撈規定，其中一項是：每年自3月1日至10月31日止，禁止於距岸三浬內海域、潮間帶及河口水域以任何方式捕撈鰻苗。上述規定最可能是為了達成下列何種目的？

- (A)推廣休閒漁業 (B)增加漁業資源
(C)改變食用魚的種類 (D)避免國際漁事糾紛

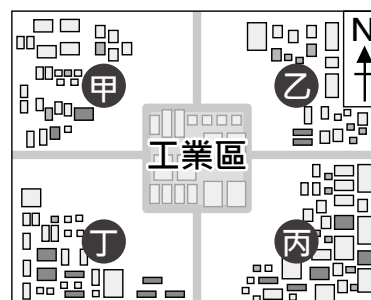
4. 政府計畫興建一條快速道路，規畫的路線如圖(二)所示。道路沿線有山地及河流阻隔，因此經過河谷需興建橋梁，遇到山脊則需開挖隧道，以求最短距離。根據圖(二)的等高線判斷，甲、乙、丙三個路段需興建的項目，依序為下列何者？



圖(二)

- (A)橋梁-隧道-橋梁
(B)隧道-橋梁-隧道
(C)隧道-隧道-橋梁
(D)橋梁-橋梁-隧道

5. 圖(三)為位在臺灣北部的某工業區及其鄰近社區的分布圖，工業區排放廢氣會影響鄰近社區的空氣品質。若僅根據臺灣不同季節的盛行風向判斷，冬季時圖中哪一社區受該工業區廢氣的影響最大？

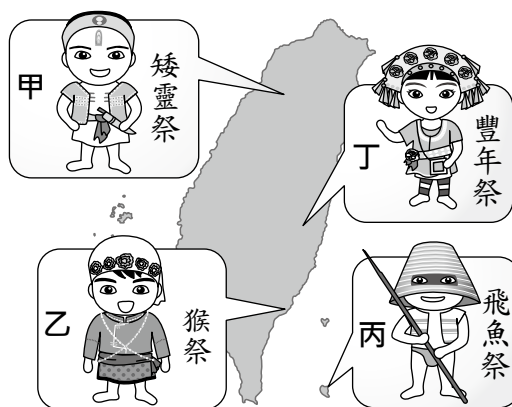


圖(三)

- (A)甲 (B)乙
(C)丙 (D)丁

6. 圖(四)為臺灣部分原住民族群的祭典與主要分布圖。若按圖片內容判斷，雅美族(達悟族)應為圖中何者？

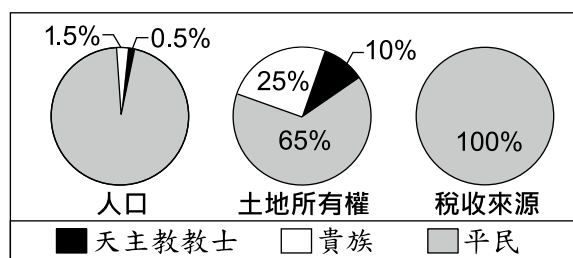
- (A)甲
(B)乙
(C)丙
(D)丁



圖(四)

7. 圖(五)呈現某事件前夕，當地的社會情況。此事件最可能是下列何者？

- (A)美國獨立
(B)法國大革命
(C)日本大化革新
(D)中國武昌起義



圖(五)

8. 保存古蹟的意義，在於它們能引領後人回到歷史現場，去感受當時的重大變遷或現象。基隆的「海門天險」與臺南的「億載金城」均為國定古蹟，這兩處古蹟的出現，反映當時有何迫切的需要？

- (A)招撫原住民
(B)防止列強入侵
(C)拓墾丘陵、山地
(D)掃蕩武裝抗日勢力

9. 上課時老師用圖(六)到圖(七)的變化來說明某位君主的改革，根據內容判斷，此君主最可能是下列何者？

- (A)齊桓公 (B)秦始皇
(C)漢武帝 (D)北魏孝文帝



圖(六)



圖(七)

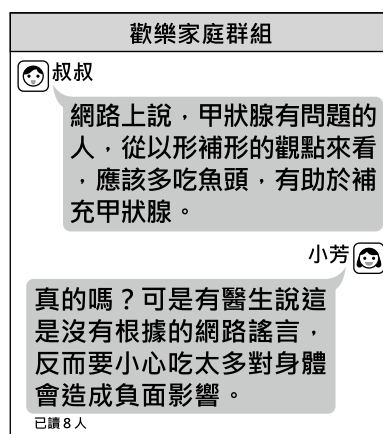
表(一)

10. 表(一)是不同時期臺灣官方曾經明文規定的節日。根據內容判斷，其中何者最不可能是由日本統治時期的政府所指定？

- (A)甲
(B)乙
(C)丙
(D)丁

	節日	日期
甲	青年節 (紀念黃花岡之役)	3月29日
乙	海軍紀念日 (日俄戰爭勝利紀念)	5月27日
丙	臺灣神社祭	10月28日
丁	明治節 (明治天皇誕生日)	11月3日

11. 近年來由於網路通訊軟體發達，大量訊息在手機的聯繫群組間快速流傳。圖(八)是小芳家庭群組裡的對話，根據圖中內容判斷，在網路科技發達的時代，下列何者更應受到重視？
- (A)媒體識讀的素養
(B)醫療技術的提升
(C)資訊科技的設備
(D)生命倫理的推廣



圖(八)

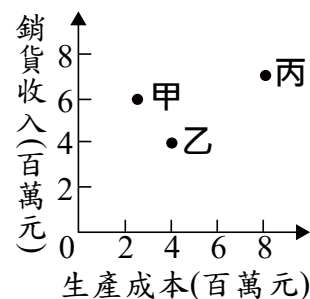
12. 表(二)為甲國人口發展趨勢的推估數據。根據表中內容判斷，政府最可能以下列哪一項政策來面對此種發展趨勢？
- (A)增加多元入學管道
(B)提高失業給付金額
(C)保障性別平等權利
(D)健全老人福利制度

表(二)

年分 (年)	人口結構(%)		
	14歲以下	15-64歲	65歲以上
2000	21.2	70.3	8.5
2008	17.0	72.6	10.4
2016	13.2	73.4	13.4
2036	10.3	61.3	28.4
2056	8.0	52.5	39.5

13. 我國對於收賄的公務員，可處以十年以上有期徒刑，但民間企業員工出現同樣的行為，卻常以刑罰較輕的背信罪處罰。上述相同的行為，會因犯罪者身分不同而受到不同懲罰的情況，與下列何種原則的關係最密切？
- (A)誠實信用 (B)罪刑法定 (C)契約自由 (D)無罪推定

14. 某工廠擁有三條生產線，分別生產甲、乙、丙三項產品，上半年的銷售成果如圖(九)所示。近日廠長決定停止生產其中一項產品，並把該生產線轉為生產其他二項產品中的其中一種，期望增加工廠的利潤。在考量各產線上半年獲利的狀況下，根據圖中資訊判斷，下列四個方案中，何者最能達成廠長的目標？



圖(九)

- (A)停止生產甲，增加生產乙
(B)停止生產甲，增加生產丙
(C)停止生產乙，增加生產丙
(D)停止生產乙，增加生產甲
15. 新聞報導：日前因人為疏失造成全臺數百萬戶大停電，立法院不分朝野為了追究責任，將請行政院院長提出專案報告。此外，在野黨立委認為近來行政團隊表現不佳，若專案報告無法切中要點、妥善檢討，將對行政院院長提出不信任案。根據我國政府機關間的互動關係判斷，上述內容主要隱含下列何項概念？
- (A)均權制度 (B)分權制衡
(C)主權在民 (D)地方自治

16. 2016年設計的某地理桌遊，遊戲規則為比較各國的人口總數，玩家必須將抽到的卡牌，放入正確的位置，使其由大到小排列。若小屏抽到的是印度，她應該將該卡牌放置在圖(十)中的哪個位置才正確？



圖(十)

- (A)甲 (B)乙
(C)丙 (D)丁
17. 表(三)為中國2006至2015年外商投資總額最多和最少的四個行政區。根據表中呈現外商投資的空間差異，下列哪一項策略最能夠改善表中所呈現的問題？
- (A)促進東北老舊工業區轉型
(B)與東協簽署自由貿易協定
(C)取消一胎化的計畫生育政策
(D)推動與中亞國家的邊境貿易

表(三)

投資總額前四名	比例(%)	投資總額後四名	比例(%)
江蘇省	18.89	西藏自治區	0.03
廣東省	15.64	青海省	0.11
上海市	13.43	寧夏回族自治區	0.14
浙江省	6.92	新疆維吾爾自治區	0.19

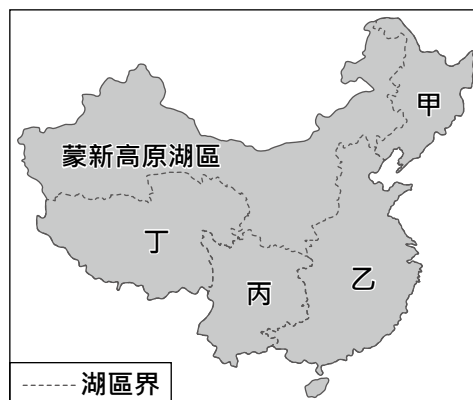
18. 小雅在澳洲 雪梨(33.9°S, 151.2°E)欣賞完跨年煙火後，想緊接著挑戰利用時差前往另一個都市再次跨年。若僅考慮飛行時間和時差，則從雪梨搭飛機前往表(四)中哪個都市，最可能完成此項挑戰？
- (A)甲 (B)乙
(C)丙 (D)丁

表(四)

都市	經緯度	飛行時間
甲	36.8°S, 174.7°E	3小時10分
乙	21.2°S, 159.8°W	6小時10分
丙	35.7°N, 139.7°E	9小時35分
丁	26.2°S, 28.0°E	14小時0分

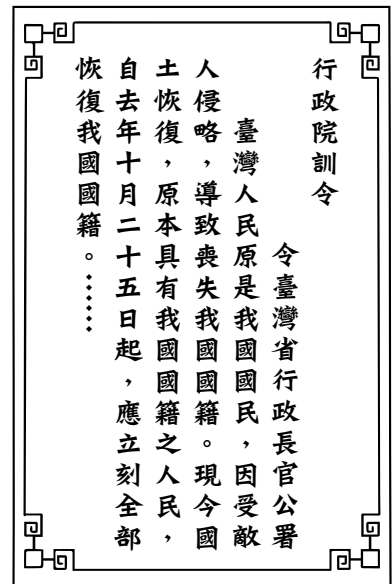
19. 「臺灣某行政區的山地面積比例高於75%，100公尺以下平地面積則不到25%。該區平原為數條河川共同沖積而成，甲山脈呈東北—西南走向越過平原西北方，平原南方為乙山脈的北端起點，平原東部則有縱向海岸沙丘分布。」上述行政區應為下列何者？
- (A)南投縣 (B)苗栗縣
(C)宜蘭縣 (D)臺東縣

20. 圖(十一)為中國湖泊分區圖，根據湖水含鹽度可分為淡水湖與鹹水湖，其中鹹水湖主要分布在圖中何區？
- (A)甲
(B)乙
(C)丙
(D)丁



圖(十一)

21. 清朝統治時期的臺灣社會族群複雜，一旦發生糾紛，常以祖籍、姓氏等名義聚眾互相敵對，其中規模較大的武力衝突就有數十次之多。造成上述社會衝突的原因很多，下列何者是主要因素之一？
- (A) 要求臺灣建省
(B) 對抗外來宗教
(C) 爭奪經濟利益
(D) 抵制鐵路建設



22. 圖(十二)是臺灣史上的一份官方文件，此文件發布的時代背景最可能是下列何者？
- (A) 《馬關條約》簽訂，日本統治臺灣
(B) 日本戰敗，中華民國政府接收臺灣
(C) 國共內戰失利，中華民國政府遷臺
(D) 民國六十年，中華民國退出聯合國

圖(十二)

23. 表(五)為1514至1800年黑奴被販運到主要三大洲的統計數據。乙最可能是下列哪一洲？

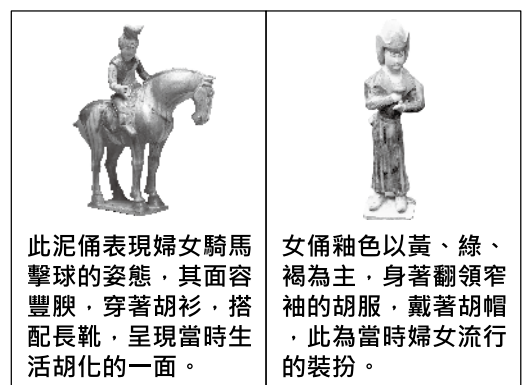
表(五)

洲別 時間	甲	乙	丙
1514-1600年	652	58,754	168
1601-1700年	4,160	645,460	847
1701-1800年	4,515	4,569,975	2,658

單位：人

24. 以下是中國某座城市的介紹：「現在城內的『沂水路』全長三百多公尺。之前德國統治這座城市的時候，叫做『迪德里希斯街』；後來日本占領時，叫做『赤羽町』。雖然這是條很短的路，卻記錄了此城市的演變過程。」此一城市最可能是下列何者？
- (A) 瀋陽 (B) 青島
(C) 南京 (D) 重慶

25. 圖(十三)是玉潔參觀「歷代中國婦女生活文物展」時，在某朝代的展示區內所看到的文物簡介。依內容判斷，此朝代最可能是下列何者？
- (A) 漢代 (B) 唐代
(C) 宋代 (D) 明代



圖(十三)

26. 右列是某學者對於我國犯罪防治研究報告的部分內容，根據其內容判斷，若要減少都市地區財產犯罪案件發生，下列何項建議最符合文末的論點？
- (A)增加基層警察人數
(B)修法加重罰鍰金額
(C)協助安裝保全設施
(D)強化民眾社區意識

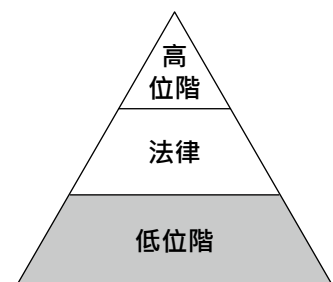
根據犯罪案件統計顯示，都市地區與鄉村地區的犯罪型態不同，二者在殺人、傷害等暴力犯罪的犯罪率無顯著差異；但在汽(機)車竊盜、強盜、搶奪等財產犯罪，都市地區的犯罪率明顯較高。因此，若要減少都市地區財產犯罪的案件，可以朝鄉村地區的特性來思考對策。

27. 我國為防治家庭暴力採行了不少措施，如設置婦幼保護專線、協助安置被害人等。若子女對父母親有言語或肢體等暴力行為，根據我國法律規定，如欲達成法律上的隔離效力，可供受害者尋求協助的機關，及此機關所能採行的因應作為，下列配對組合何者正確？
- (A)地方法院、核發保護令
(B)警察機關、核發保護令
(C)地方法院、宣告停止親權
(D)警察機關、宣告停止親權
28. 新聞報導：我國毒品危害的問題，恐有向高中、國中等校園蔓延的跡象，值得政府關注。根據調查發現，觸碰毒品的兒童及少年，多數與其家庭功能不彰，或是成長過程中充滿挫折感有關，加上他們常會仿效同學的行為模式以尋求同儕認同，進而導致毒品在校園內擴散。關於上述內容，下列何項敘述最適當？
- (A)學生涉毒皆須負完全刑事責任
(B)文中內容與需求層次理論相關
(C)學生涉毒主要是受傳播媒體影響
(D)文中內容強調終身學習的重要性

需求層次理論＝個人需求層次理論

29. 小姿：「擔任調解委員這麼多年，從沒像今年這麼忙過！」
小儀：「今年本區聲請調解的事件比去年增加了五成，大家真是辛苦了！」
在上述對話內容中，大幅增加的事件類型最可能為下列何項組合？
- (A)行政紛爭、告訴乃論的刑事案件 (B)民事紛爭、告訴乃論的刑事案件
(C)行政紛爭、非告訴乃論的刑事案件 (D)民事紛爭、非告訴乃論的刑事案件

30. 圖(十四)為我國廣義的法律位階示意圖，圖中灰色區塊所代表的法律類型，具有下列何項特色？
- (A)可由行政機關訂定
(B)必須經總統公布施行
(C)內容多為原則性的規範
(D)修改必須經公民投票複決



圖(十四)

31. 臺灣高鐵於2007年1月通車後，對其他運輸工具的營運產生顯著影響。表(六)為臺北往返四個地點的國內空運航線載客人數統計，其中一條為離島航線，三條為本島西部航線。依據表中資訊判斷，何者最可能是離島航線？

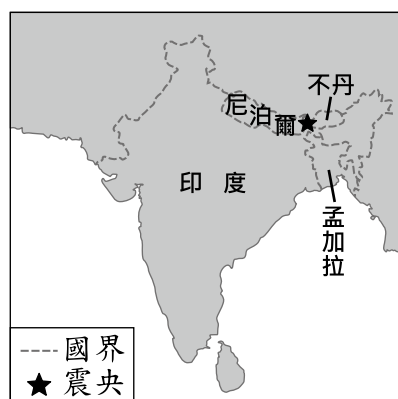
表(六)

航線 年分	甲	乙	丙	丁
2005	3,003,189	1,161,105	77,127	64,488
2006	2,651,120	1,061,387	42,216	50,570
2007	1,335,717	511,670	3,559	45,829
2008	341,972	107,270	-	57,762
2009	22,784	-	-	69,121

註：- 表示該航線停飛

單位：人

32. 圖(十五)顯示2011年9月18日發生的強烈地震震央位置，除了建築物倒塌造成的人員傷亡外，由於某些因素影響使得搜救工作不易進行，導致死傷人數持續攀升。根據當地地形、氣候等環境條件判斷，造成上文中搜救困難的因素最可能為下列何者？



圖(十五)

33. 表(七)為2014年及預測2050年各洲的人口數，根據其變化趨勢判斷，丙最可能為下列何者？

表(七)

年分 洲別	2014年	2050年
甲	1,136	2,428
乙	972	1,217
丙	741	726
丁	4,351	5,252
大洋洲	39	60

單位：百萬人

34. 表(八)為北半球四個都市的年平均降水日數統計，根據表中資訊判斷，何者最可能位於熱帶莽原氣候區？

表(八)

月分 都市	3-5	6-8	9-11	12-2	合計
甲	31.0	24.0	30.0	34.0	119.0
乙	19.3	6.8	21.4	26.4	73.9
丙	22.3	26.1	23.7	20.8	92.9
丁	10.0	44.0	17.0	0.0	71.0

單位：天

35. 以下是關於十七世紀臺灣地震的紀錄：「這年二月十五日發生強烈地震，這是我們入臺統治以來最大的地震，漢人店鋪倒塌二十多間，還有婦人及小孩被壓死，熱蘭遮城也多處龜裂。長官立刻向總部呈報，要求儘快從暹羅(今泰國)運木材來進行修復工作。」文中的「總部」，最可能位於圖(十六)中甲、乙、丙、丁何處？



圖(十六)

- (A)甲 (B)乙
(C)丙 (D)丁

36. 表(九)是四個歐洲國家在第一次世界大戰爆發後的反應，根據表中內容判斷，何者屬於「同盟國」陣營？

表(九)

國家	事件後的反應
甲	得到德國全力支持，向塞爾維亞宣戰。
乙	全面動員軍隊，對付奧匈帝國等國。
丙	為支持同一民族，同時向法國和俄國宣戰。
丁	因德軍入侵比利時，向德國宣戰。

- (A)甲丙
(B)丙丁
(C)甲乙
(D)乙丁

37. 圖(十七)是臺灣某一時期報紙刊載的徵人啟事。根據內容判斷，這最可能是下列何時的報紙？

【徵人啟事】

徵求服務生
 年齡十七至十八歲
 小學校、公學校畢業
 有意者請攜帶履歷表前來
 卅日下午六時面談
 牡丹咖啡店

徵求護士學徒
 限內地人
 高等小學校畢業以上程度
 攜帶履歷面談
 臺北帝國大學附屬醫院

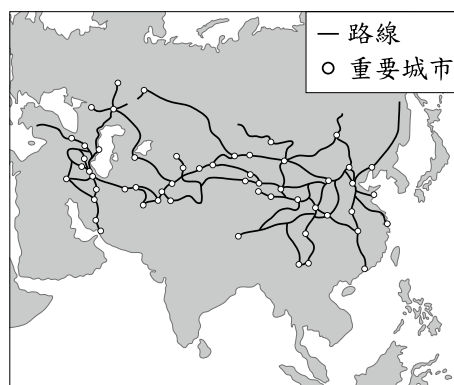
- (A) 1830年代
(B) 1860年代
(C) 1930年代
(D) 1960年代

圖(十七)

38. 圖(十八)與圖(十九)分別為官方頒發的牌符及當時可通行使用的路線。根據內容判斷，這兩幅圖最適合用來說明下列何者？



圖(十八)




圖(十九)

- (A)兩漢時期的對外征伐
(B)大唐帝國的統治區域
(C)蒙古帝國的勢力範圍
(D)盛清時期的開疆闢土

牌符：由官方頒發，官員可利用此證件，要求路線上的交通站提供食宿及車馬。

39. 阿鴻參加大學同學會，同桌有四位任職於我國中央政府機關的同學，分別談論了自己的工作職權，聊天內容與座位如圖(二十)所示。若阿鴻兩旁的同學分別任職於行政院與司法院，根據圖中內容判斷，他的座位最可能位於圖中何處？



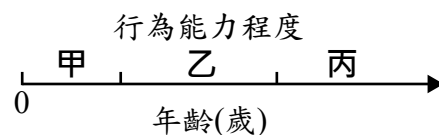
圖(二十)

40. 老師說明需求法則時，列出五組商品的價格與數量，如表(十)，請同學依需求法則，從表中選出三個價量關係，並繪製成需求曲線。若某位同學的作答結果正確，則下列何者最可能是他選擇的組合？

表(十)

價量關係	價格(元)	數量(個)
甲	100	40
乙	80	30
丙	60	50
丁	40	130
戊	20	110

41. 圖(二十一)為《民法》中年齡與行為能力程度的示意圖，甲、乙、丙分別代表不同程度的行為能力。下列何者最可能與圖中的「甲」屬於相同程度的行為能力？

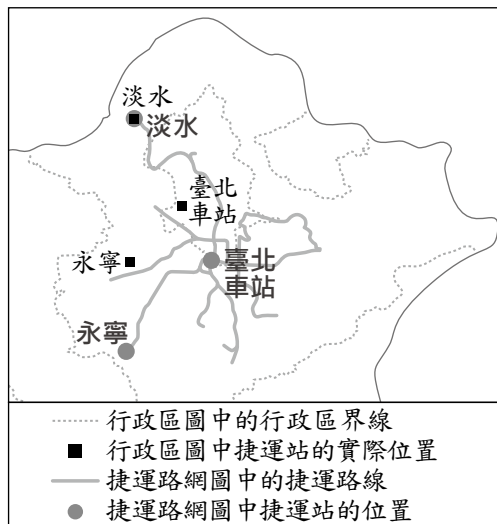


圖(二十一)

- (A)受到法院監護宣告的大明
 (B)遭到宣告褫奪公權的阿世
 (C)8歲因故仍未就學的小龍
 (D)9歲意外失去雙親的琪琪
42. 小剛買了一些除蚤藥替小貓除蚤，但後來小貓走丟了，於是他將未使用完的除蚤藥放上網路出售，沒想到縣政府以違反《動物用藥品管理法》為由，對小剛開出九萬元的罰單。上述小剛承擔的法律責任，其性質與下列何者相同？
- (A)網路賣家拒絕退換售出的瑕疵商品
 (B)曉華屢次虐待動物遭處以有期徒刑
 (C)快遞公司未依契約規定時間送貨到府
 (D)餐廳因消防檢查不合規定遭停止營業

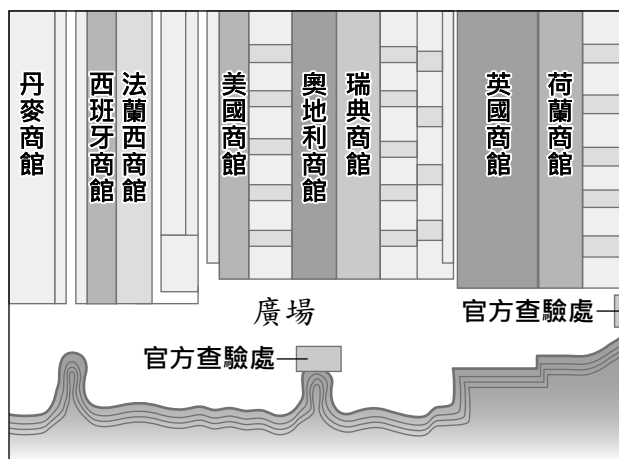
43. 南美洲南端海運天然限制多，橫越安地斯山脈又常受冬季降雪阻礙交通，因此智利與阿根廷兩國計畫興建打通安地斯山脈的隧道。該隧道不僅可大幅縮短運輸時間，也降低氣候對貨運的影響，有利於大西洋岸國家與太平洋岸國家間的貿易。在上述工程完工後，下列何者的運輸時間可望降低？
- (A)智利至日本 (B)智利至紐西蘭
(C)阿根廷至英國 (D)阿根廷至中國

44. 小明將臺北捷運路網圖與臺灣北部行政區圖以捷運淡水站為基準點套疊，顯示如圖(二十二)所示的現象：路網圖中各站位置與行政區圖中的實際位置並不一致。造成上述現象的原因最可能為下列何者？
- (A)路網圖為被簡化過的地圖
(B)路網圖的比例尺較行政區圖大
(C)路網圖涵蓋的範圍較行政區圖大
(D)路網圖繪製的時間較行政區圖早



圖(二十二)

45. 圖(二十三)是某一港口附近的各國商館平面示意圖，根據圖中內容判斷，此一港口最可能是下列何者？
- (A)十七世紀後期的長崎
(B)十八世紀前期的香港
(C)十八世紀後期的安平
(D)十九世紀前期的廣州



圖(二十三)

表(十一)

46. 表(十一)介紹歐洲某一文化潮流的背景與特色，表中的「？」最適合填入下列何者？
- (A)方言文學的興起
(B)印象畫派的流行
(C)浪漫主義的發展
(D)封建制度的形成

起源地	義大利北部
背景	<ul style="list-style-type: none"> ■ 與拜占庭、伊斯蘭世界貿易交流。 ■ 城市的發展及市民階級的崛起。 ■ 銀行家、富商對藝文活動的贊助。
特色	<ul style="list-style-type: none"> ◆ 重新發現古典文化的價值。 ◆ 繪畫、雕刻等藝術的創新。 ◆ 「？」

47. 表(十二)為某蛋糕店主打商品於試賣期間的記錄內容，其中甲、乙、丙、丁、戊分別表示由高到低的五種價格。該店販售的商品皆為當日製作，絕不販售隔夜商品。若表中甲、乙、丙、丁、戊皆非均衡價格，且不考量其他因素，則此商品的均衡價格最可能介於下列哪二者之間？

表(十二)

當日價格(元)	平均未賣出的商品數量(個/天)
甲	7
乙	4
丙	2
丁	0
戊	0

48. 老闆僱用小偉、大智、阿雯為店員，並計畫選出其中二人合作製作煎餃與包子，表(十三)為此三人工作成效的資訊。老闆發現依比較利益法則分工，小偉不論與誰合作，皆是負責製作包子；而大智不論與誰合作，皆是負責製作煎餃，根據表中資訊判斷，下列對應關係何者正確？

表(十三)

店員 \ 產品	包子	煎餃
甲	50	60
乙	50	50
丙	40	50

單位：個/小時

- (A)甲：小偉，乙：大智，丙：阿雯
 (B)甲：大智，乙：小偉，丙：阿雯
 (C)甲：阿雯，乙：小偉，丙：大智
 (D)甲：小偉，乙：阿雯，丙：大智
49. 「哈薩克近來外匯收入大幅萎縮，於是政策規畫出口馬奶的加工乳品，以增加外匯。」上述政策最可能是因應下列何種商品國際市場價格的變動？
- (A)石油價格慘跌
 (B)石油價格飆升
 (C)咖啡價格慘跌
 (D)咖啡價格飆升

表(十四)

50. 歡樂國採行與英國相仿的內閣制，表(十四)是該國近日的選舉結果。根據表中資料判斷，選舉過後，該國新聞媒體刊出哪一評論內容最適當？

政黨名稱	獲得國會議員席次(席)
甲黨	58
乙黨	47
丙黨	5
丁黨	3
戊黨	2
總計	115

- (A)籌組聯合政府勢在必行
 (B)選後將邁入多黨制時代
 (C)甲黨將主導組成新內閣
 (D)甲黨領袖成為國家元首

51. 小倫和小真正在討論歷史上某文明所實行的制度，如圖(二十四)所示。他們討論的主題最可能是下列何者？

- (A)印度種姓制度
(B)周代宗法制度
(C)雅典民主制度
(D)西歐封建制度



圖(二十四)

52. 表(十五)是甲、乙兩國匯率變動的情形，以吸引乙國遊客為主的甲國觀光業者，看到此變化後感到很憂心。根據表中內容判斷，若甲國的物價水準維持不變，下列何者最可能是上述業者的憂慮？

- (A)甲國觀光業者經營成本提高
(B)乙國人的平均薪資所得減少
(C)甲國觀光業者數量大幅增加
(D)乙國人到甲國旅遊意願下降

表(十五)

時間	1甲幣可兌換的乙幣
去年	10
今年	20

53. 阿娟參加旅行團到某城市觀光，拿到了如下的旅遊簡介：「此城市地理位置優越，既連接兩大洲，又位居黑海通往地中海航道的必經之地，曾經先後作為兩個大帝國的首都長達一千六百多年之久。城內有著拜占庭帝國所修築的古城牆、鄂圖曼土耳其帝國華麗的皇宮，以及宏偉的基督教教堂與清真寺等文化遺產，展現了這座城市輝煌悠久的歷史。」根據內容判斷，阿娟到訪的城市最可能是下列何者？

- (A)羅馬
(B)開羅
(C)耶路撒冷
(D)伊斯坦堡

54. 表(十六)為日治後期全臺灣某項土地利用方式的地租調查資料，根據表中資料判斷，該項土地利用方式最可能為下列何者？

- (A)林地
(B)茶園
(C)溫泉
(D)鹽田

表(十六)

稅務官署別	面積 (甲)	地租 (円)
臺南州稅務課	3,943	8,138
嘉義稅務出張所	2,306	5,963
高雄州稅務課	530	1,058
彰化稅務出張所	275	247
全臺灣合計	7,054	15,406

円:日圓

二、題組：(55~63題)

閱讀下列選文，回答第 55 至 57 題：

酒為人類飲用歷史非常悠久的加工飲品，由植物發酵製成，表(十七)為不同酒類的原料與著名產地。酒除了作為飲品之外也有醫療、衛生等用途，就像現在把酒精作為簡易殺菌使用一樣，在中世紀歐洲，高酒精濃度的伏特加或白蘭地，即成為防範鼠疫蔓延的消毒藥，或戰場上傷病軍人的治療用藥。因此，酒對於文明的發展有其貢獻，對於某些國家甚至有舉足輕重的影響力。

酒雖作為全球重要的飲品之一，但在某些地區，因為宗教或政治等因素是禁止製酒、賣酒或是飲酒的，例如穆斯林禁止飲酒，因此在伊斯蘭世界多以法律明文禁止買賣酒類。在臺灣，現行法律則規定須取得製造許可才可以製酒，民眾私釀酒僅限自用，每戶以100公升為限；且酒的販賣或轉讓不得以自動販賣機、郵購、電子購物或其他無法辨識購買者或受讓者年齡等方式為之。

表(十七)

酒名	原料	著名產地
清酒	米	日本
香檳	葡萄	法國
伏特加	穀類	俄羅斯
蘭姆酒	甘蔗	古巴

55. 根據酒類的原料來源判斷，蘭姆酒的產地最可能集中在下列何處？

- (A)北美五大湖區 (B)加勒比海地區
(C)環地中海地區 (D)環波羅的海地區

56. 根據上文判斷，下列哪個國家的酒類消費量可能最低？

- (A)印度 (B)加拿大
(C)西班牙 (D)沙烏地阿拉伯

57. 文末關於臺灣酒類的販賣規定，最主要的是因為下列何項考量？

- (A)維護兒童及少年的健康 (B)提高合法製酒商的利潤
(C)確保穆斯林飲食符合戒律 (D)保障實體零售業者的權利

閱讀下列選文，回答第 58 至 60 題：

位於臺東縣的「伯朗大道」與「天堂路」，因咖啡與航空公司的廣告在此取景而一夕成名，吸引眾多遊客與車輛湧入。由於此二條道路並不寬敞，過去遊客常為欣賞美景隨意在路邊停車，妨礙農耕機具的進出。為避免影響農耕及稻米採收作業，於是政府對車輛進出加以管制，請民眾多加配合，違規者將依法開罰。

此外，由於遊客增多，有時會出現遊客擅入稻田拍照的脫序行為，使農民辛苦栽種的稻作蒙受損失。當地農民表示：「我們歡迎遊客來訪，但請將心比心，站在農民的立場想一想！我們給了你們這麼美好的環境，不要只留下損失讓我們承擔！」

58. 文中所提及的行政區內，最不可能選出下列何項公職人員？
(A)鄉長 (B)市議員
(C)立法委員 (D)市民代表
59. 文中政府的作為，其目的最可能為下列何者？
(A)投資觀光資源 (B)管理經濟秩序
(C)提升外部效益 (D)降低外部成本
60. 文中農民的心聲，主要是從下列何種社會規範的角度提出看法？
(A)風俗習慣 (B)法律規定
(C)倫理道德 (D)宗教信仰

閱讀下列選文，回答第 61 至 63 題：

1900年，在慈禧太后默許民眾攻擊教堂及傳教士，甚至包圍北京的外國使館後，美軍第十五步兵團首次被派遣至中國保護僑民。清朝滅亡後，步兵團為確保美國人在華利益，長期駐守天津。袁世凱死後至北伐完成期間，中國內戰不斷，步兵團為避免動亂影響美國的利益，也曾介入其中，間接保護了天津民眾的安全。後來，當日本在今日北京附近發動侵華的軍事行動，與中國爆發戰爭，美國政府不願捲入戰局，因此決定撤離第十五步兵團，結束多年的派駐。

61. 根據上文，美國首次派遣第十五步兵團至中國的原因，最可能是下列何者？
(A)鴉片戰爭結束後，要求給予特權
(B)趁英法聯軍之際，脅迫開放天津
(C)與列強瓜分中國，從中獲得利益
(D)義和團事件爆發，引發八國聯軍
62. 根據上文，第十五步兵團介入中國內戰，間接保護天津民眾安全，當時中國的主要政治情況為何？
(A)立憲派與革命派爭論不休，滿清帝制搖搖欲墜
(B)地方軍事強人憑藉武力以奪取地盤，割據一方
(C)日本扶植汪精衛政權，對抗在重慶的國民政府
(D)國民黨與共產黨不斷衝突，共黨全面控制中國
- 汪精衛 = 汪兆銘
63. 根據上文，美國決定撤離第十五步兵團，最可能與下列何者有關？
(A)九一八事變
(B)一二八事變
(C)盧溝橋事變
(D)珍珠港事變